

# *Логические задачи*

*для старших дошкольников*



Воспитатели: Тимохович Т.В.  
Демина И.Н.



1. Ты да я, я мы с тобой.  
Сколько нас всего? (2)


2. Шел человек в город и по дороге догнал трех своих знакомых. Сколько человек шло в город? (4)

3. В вазе лежало три яблока. девочек. Каждая из девочек получила по яблоку, и одно осталось. Как это получилось? (одна девочка взяла яблоко с вазой)



4. У трех братьев по одной сестре. Сколько всего детей в семье? (4)

5. Может ли дождь идти два дня подряд? (не может ночь, разделяет дни)



5. Росло четыре березы. На каждой березе по 4 ветки. На каждой ветке по 4 яблока. Сколько всего яблок? (ни одного, на березе яблоки не растут)
7. На столе лежало 4 яблока. Одно разделили пополам. Сколько яблок на столе? (4)
8. У какой фигуры нет ни начала, ни конца? (у круга)
9. Как можно сорвать ветку не спугнув с нее птичку? (нельзя, улетит)



10. На столе стояло три стакана с ягодами. Вова съел один стакан ягод и поставил его на стол. Сколько стаканов стоит на столе? (3)




11. В вазе лежала одна конфета. К вечеру ее не стало. Кто ее взял, если в комнате были: кошка, рыбы в аквариуме, дедушка и моль? (дедушка)

12. Если съесть одну сливу, что останется? (косточка)



13. В Москву одновременно прибыли два поезда – скорый и пассажирский. Пассажирский ехал медленней. Какой поезд выехал раньше?  
(пассажирский)



14. По небу летели птицы: воробей, стрекоза, ласточка и шмель. Сколько всего летело птиц? (2)

15. Три мальчика шли по дороге и нашли три рубля. Сколько нашел бы каждый из них, если бы шел один? (3)





16. Сколько ушей у трех мышей? (6)

17. На машину можно погрузить только четыре бревна. Сколько раз надо съездить в лес, чтобы вывезти девять бревен? (3)


18. В комнате стояла 10 стульев, на которых сидели 10 мальчиков. Вошли 10 девочек, и им всем нашлось по стулу. Как это могло случиться? (уступили)



19. Вдоль дорожке друг за другом растут 10 деревьев, между которых стоят скамейки. Сколько всего скамеек? (9)

20. Сколь раз должен пилит медвежонок бревно, чтоб у него получилось 4 полена? (3)

21. Когда козе исполнится 6 лет, что будет? (пойдет 7 – ой год)



22. На полянке у реки  
Жили майские жуки  
Дочка, сын, отец и мать  
Кто успел их сосчитать?

(4)



45. Скворчиха несла  
каждый день по  
одному яичку.  
Сколько она  
снесла за 7 дней? (7)



46. У бабушки Даши внучка  
Маша, кот Пушок, собака  
Дружок. Сколько у  
бабушки внуков? (одна  
внучка Маша).



47. У стены стоит кадушка, а  
в кадушке той лягушка.  
Если было б 7 кадушек,  
сколько было бы  
лягушек? (возможно ни  
одной).